
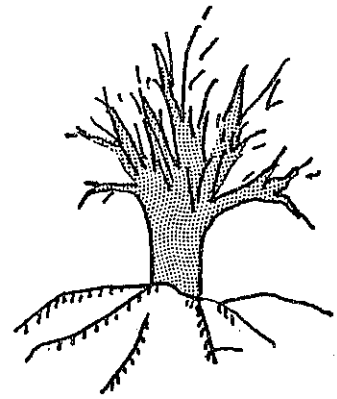
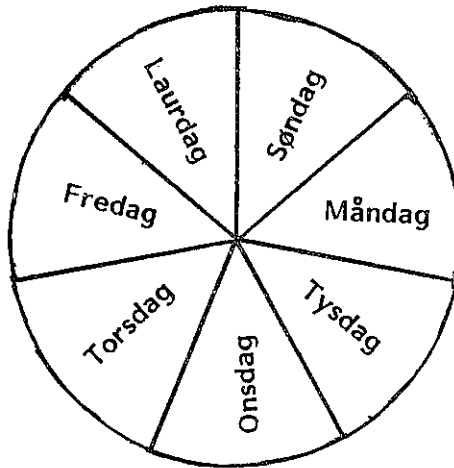

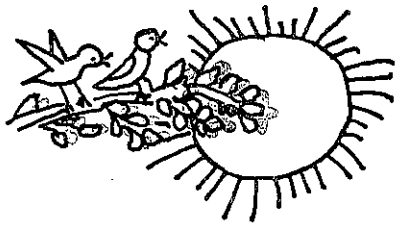


Utarbeidd av Tore Ravn
Norsk utgåve ved Randi Thronæs

EIT ARBEIDSHEFTE OM TID



TID



Jan	Feb	Mars	Apr	Mai	Juni	Juli	Aug	Sept	Okt	Nov	Des

PROSJEKT NR. 202

VIKHOVTRYKK

FORMÅL

Dette er ei arbeidsbok som kan brukast som eit supplement til anna materiale når ein gjennomgår omgrepet " tid ".
(Frå sekundar til år)

NIVÅ

Døveskulen 3. - 5. klasse

SPRÅK

Enkelt

METODISKE FORSLAG

Nokre av sidene høver godt som transparentar.

(f.eks. s.4,8 og 20)

I samband med s. 8 -10 kan ein lage spel.(memory,bingo) med:

a) ulike ur.

b) ur / tekst.

Ein kalender er nødvendig når

ein skal arbeide med s. 18 - 24.

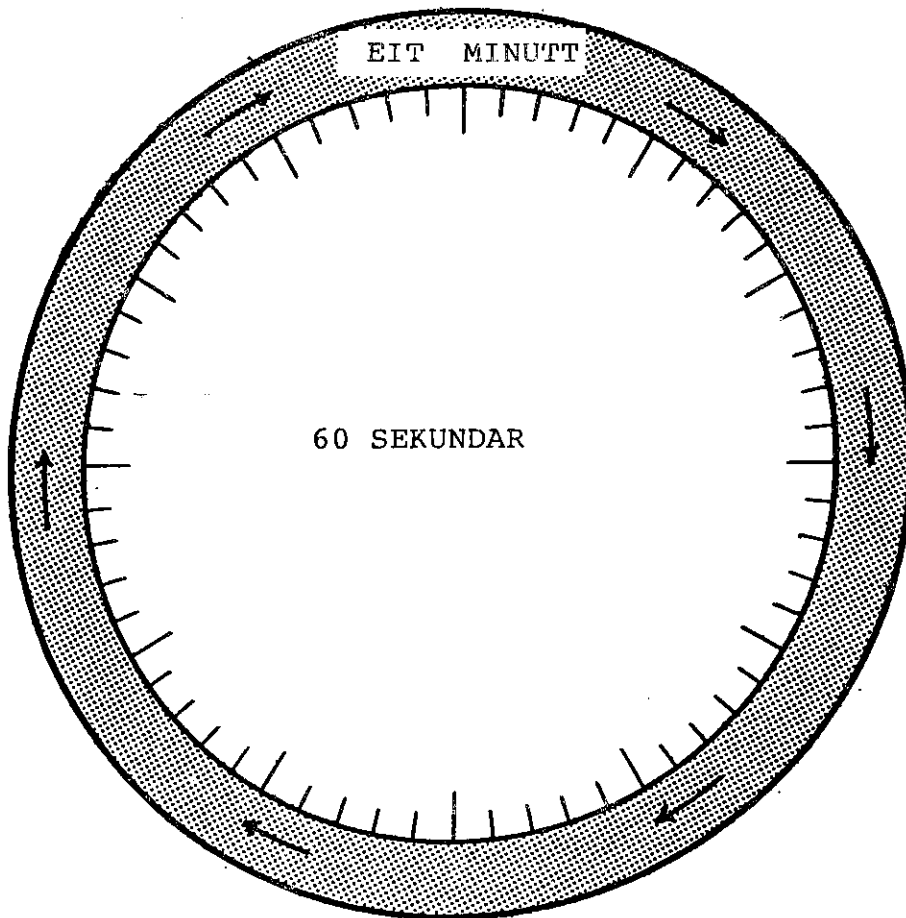
Originalutgåve ved Døveskolernes Materialelaboratorium,Aalborg.

Norsk utgåve: Læremiddelavdelinga,

Vikhov skole - senter for hørselshemmede

7560 Vikhamar.

S E K U N D A R .



60 sekundar = _____ minutt

120 sekundar = _____ minutt

180 sekundar = _____ minutt

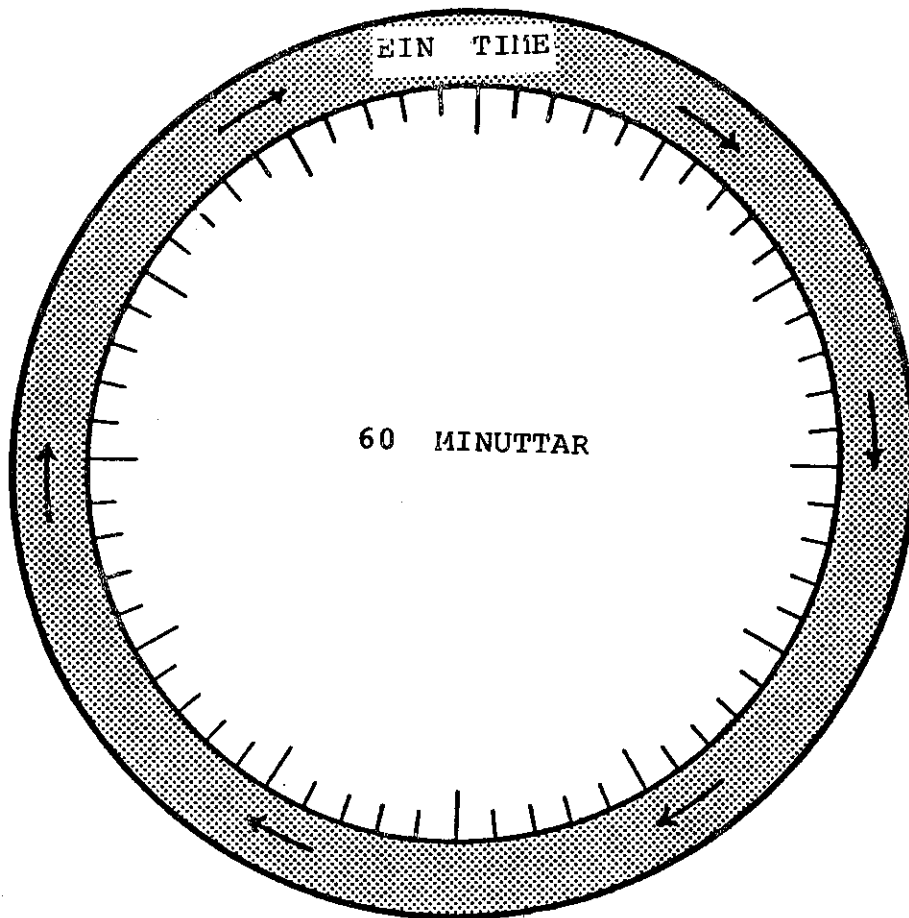
240 sekundar = _____ minutt

300 sekundar = _____ minutt

600 sekundar = _____ minutt

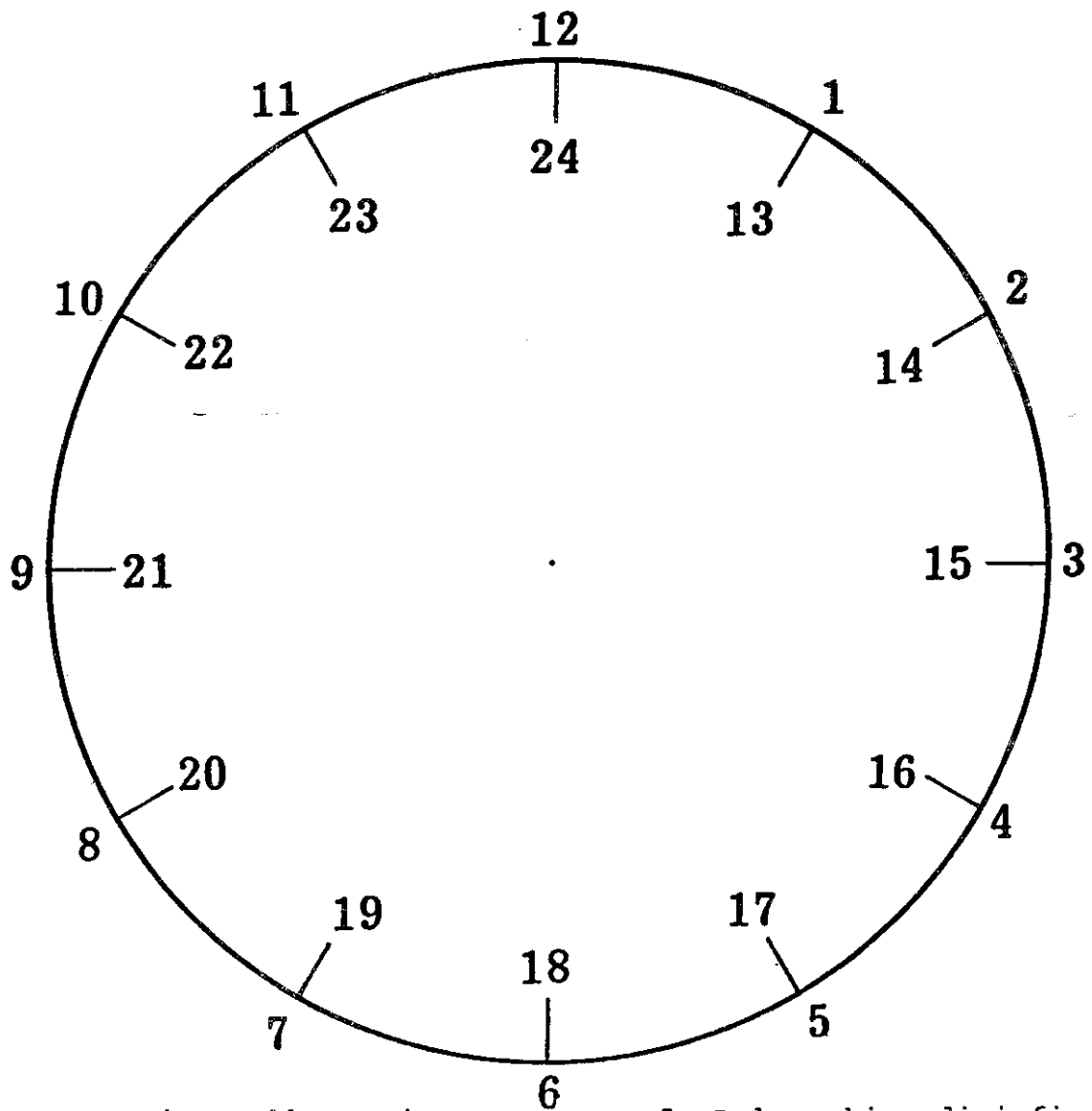
1200 sekundar = _____ minutt

MINUTTAR.



- 60 minuttar = _____ time
- 120 minuttar = _____ timar
- 600 minuttar = _____ timar
- 65 minuttar = _____ timar og _____ min.
- 70 minuttar = _____ time og _____ min.
- 90 minuttar = _____ time og _____ min.
- 150 minuttar = _____ timar og _____ min.
- 300 minuttar = _____ timar og _____ min.

E I N T I M E .



1. Legg eit stykke papir
over urskiva.

2. Teikn den av og klipp
den ut.

3. Del urskiva di i 2 like
store delar.

4. Legg ein del på uret ovafor.

No kan du dekke ein halv time

5. Del urskiva di i fire
like store delar.

No kan du dekke:

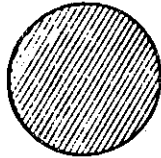
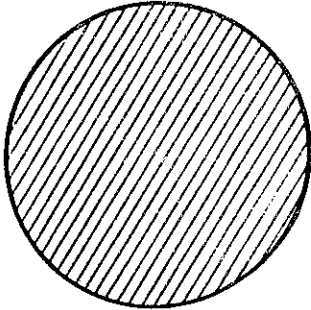
eit kvarter

ein halv time

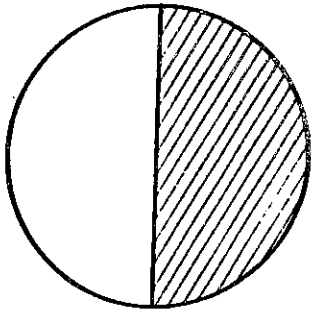
tre kvarter

ein time

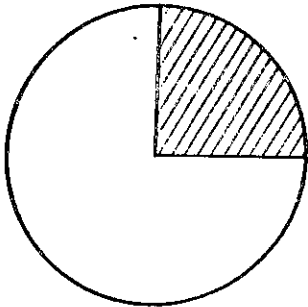
E I N T I M E .



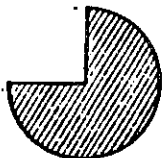
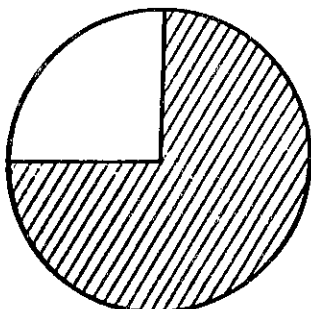
=



=

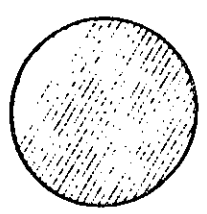


=

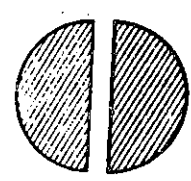


=

E I N T I M E .



(ein time)



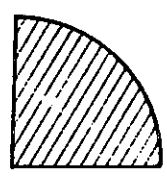
(to halve timar)

(ein time) =

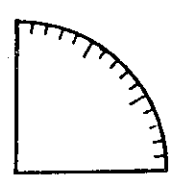
(fire kvarter)

(ein halv time) =

(kvarter)

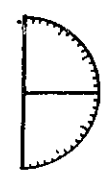


(eit kvarter) =



(15 minuttar)

(ein halv time) =



(minuttar)

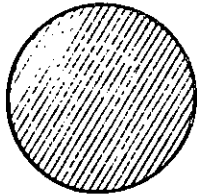
(tre kvarter) =

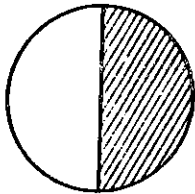
(minuttar)

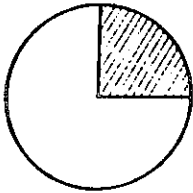
(ein time) =

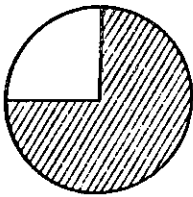
(minuttar)

E I N T I M E









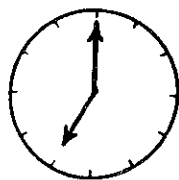
Ein time = _____ minuttar

Ein halv time = _____ minuttar

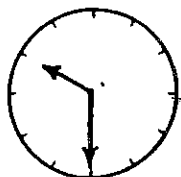
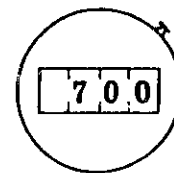
Eit kvarter = _____ minuttar

Tre kvarter = _____ minuttar

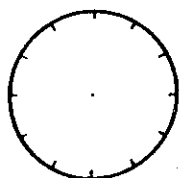
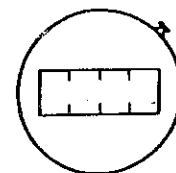
TO FORSKJELLIGE UR



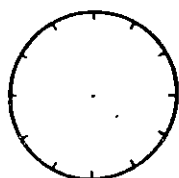
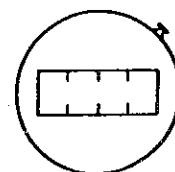
Klokka er sju.



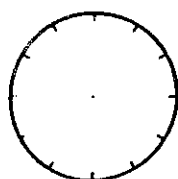
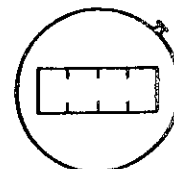
Klokka er halv ti.



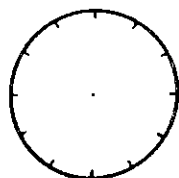
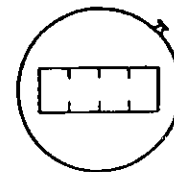
Klokka er kvart over eitt.



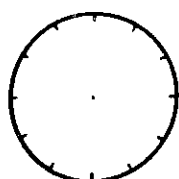
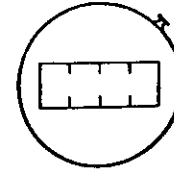
Klokka er kvart på fire.



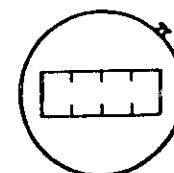
Klokka er fem minuttar på fem .



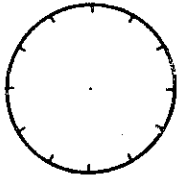
Klokka er ti minuttar over åtte.



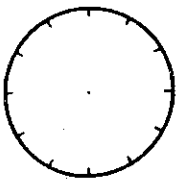
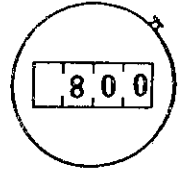
Klokka er nå _____



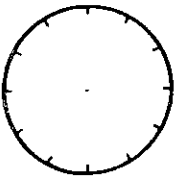
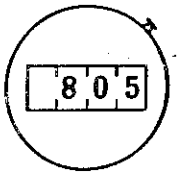
KVA ER KLOKKA ?



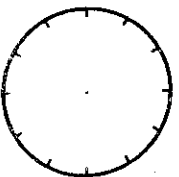

Klokka er _____



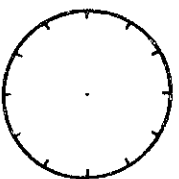
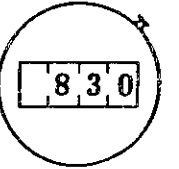
Klokka er
_____ minuttar over _____



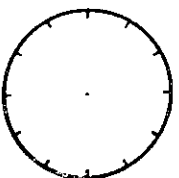

Klokka er
_____ kvarter _____



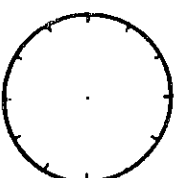

Klokka er
_____ ni.




Klokka er



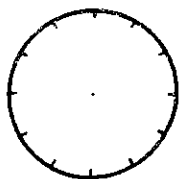
Klokka er



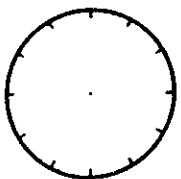
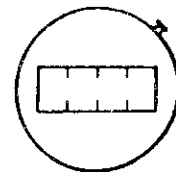
Klokka er



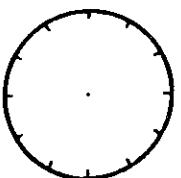
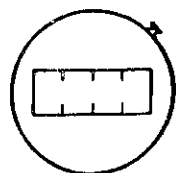
KVA ER KLOKKA ?



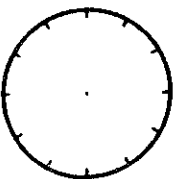
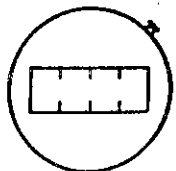
Klokka er ti.



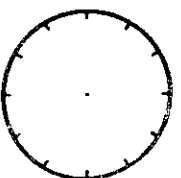
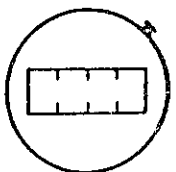
Klokka er halv to.



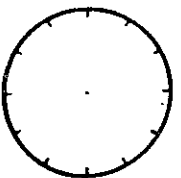
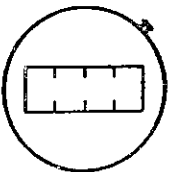
Klokka er kvart over fem.



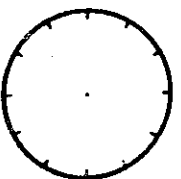
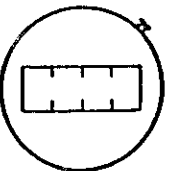
Klokka er kvart på sju.



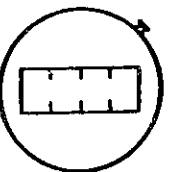
Klokka er fem minuttar
over eitt.



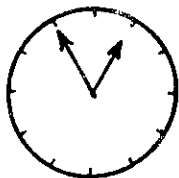
Klokka er fem minuttar
over halv tre.



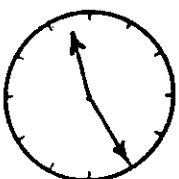
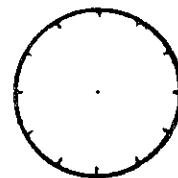
Klokka er ti minuttar
på halv ni.



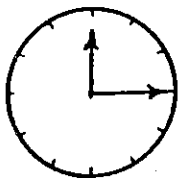
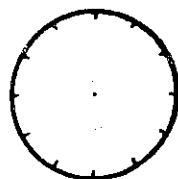
KVA ER KLOKKA OM ? MINUTTAR ?



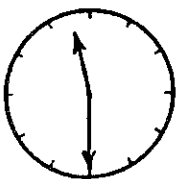
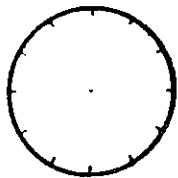
Eg skal heim om 5 minuttar.



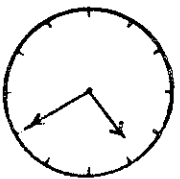
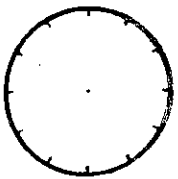
Eg kjem om 10 minuttar.



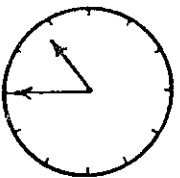
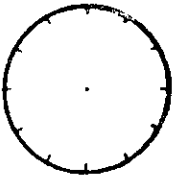
Skulen sluttar om tre kvarter.



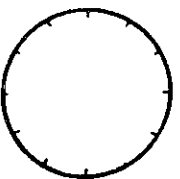
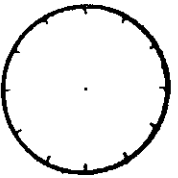
Vi skal ete om ein halv time.



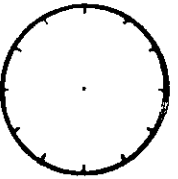
Barne - T V byrjar om 20 minuttar.



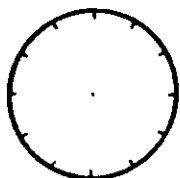
Posten kjem om eit kvarter.



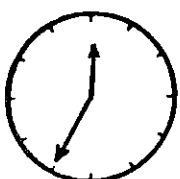
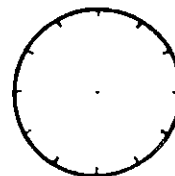
Eg skal gå om ei stund.



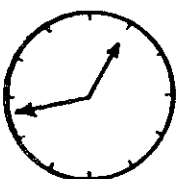
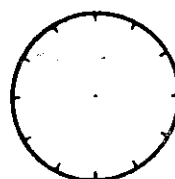
KVA VAR KLOKKA FOR ? MINUTTAR SIDAN ?



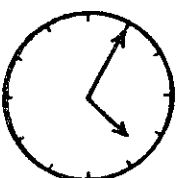
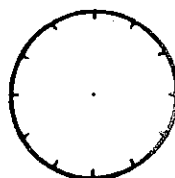
Filmen byrja for 5 minuttar sidan.



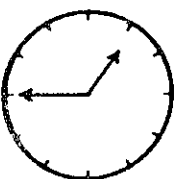
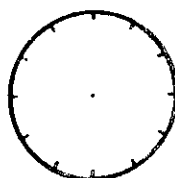
Skulen byrja for ein time sidan.



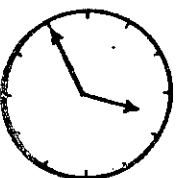
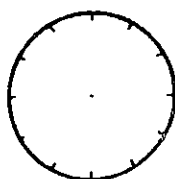
Forretninga opna for eit kvarter sidan.



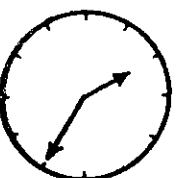
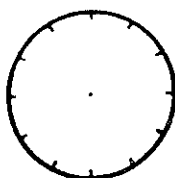
Posten kom for 10 minuttar sidan.



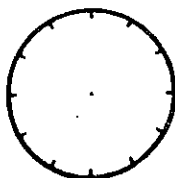
Bussen gjekk for 20 minuttar sidan.



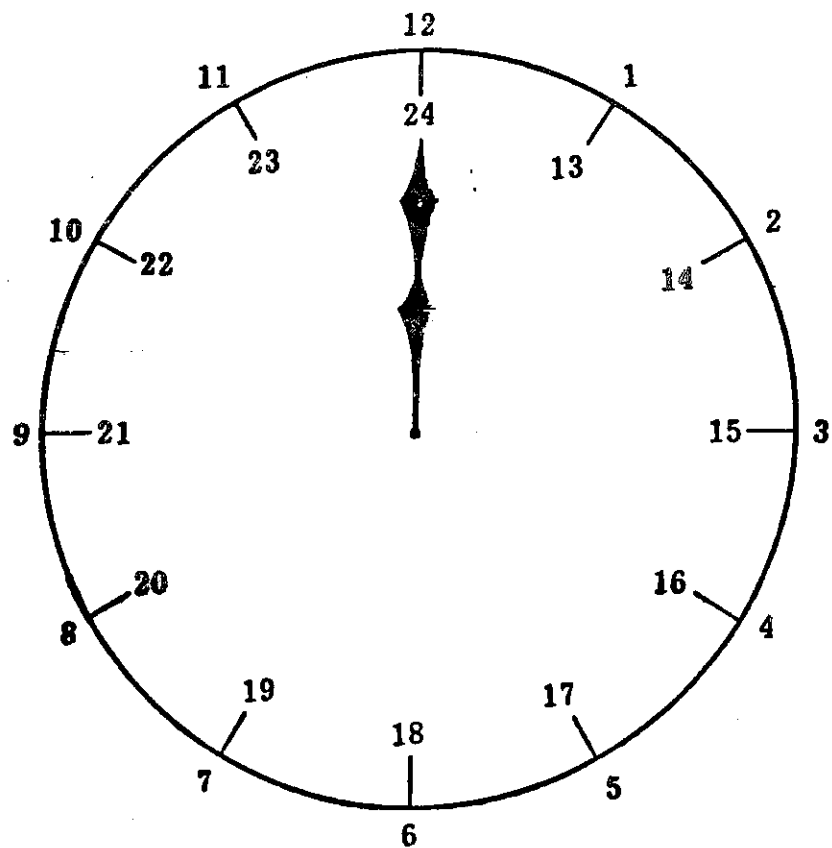
Far gjekk på arbeid for ein time sidan.



Eg kom heim for ei lita stund sidan.



EIT DØGN .



Ein dag og ei natt = eit _____

Eit døgn = _____ timar.

Ein time = _____ minuttar.

Ein halv time = _____ minuttar.

Eit kvarter = _____ minuttar.


Eit minutt = _____ sekundar.

Eit halvt minutt = _____ sekundar.

Eit kvart minutt = _____ sekundar.


EIT DØGN .

Når det er lyst



er det dag.

Når det er mørkt



er det natt.

Eit døgn = ein _____ og ei _____

24 timar = _____ døgn

48 timar = _____ døgn

72 timar = _____ døgn

96 timar = _____ døgn

120 timar = _____ døgn

144 timar = _____ døgn

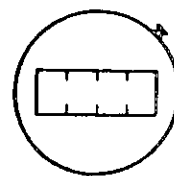
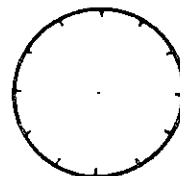
168 timar = _____ døgn

7 døgn = 1 veke


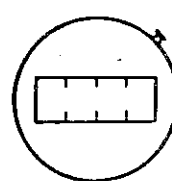
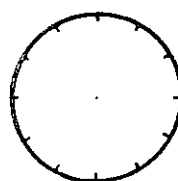
EIT DØGN .




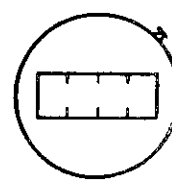
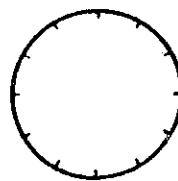
Når klokka er to
er det NATT.




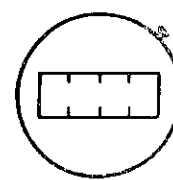
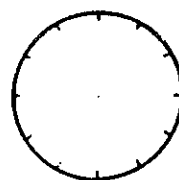
Når klokka er 6
er det MORGON.



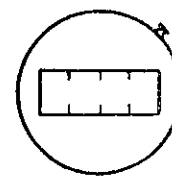
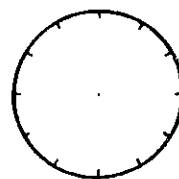
Når klokka er 10
er det FØREMIDDAG:



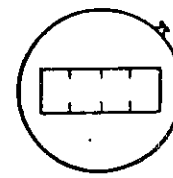
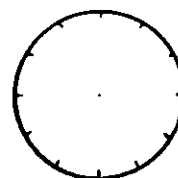
Når klokka er 12
er det MIDDAG.



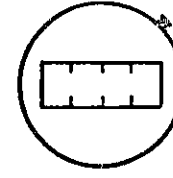
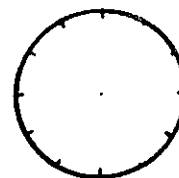
Når klokka er 14
er det ETTERMIDDAG.



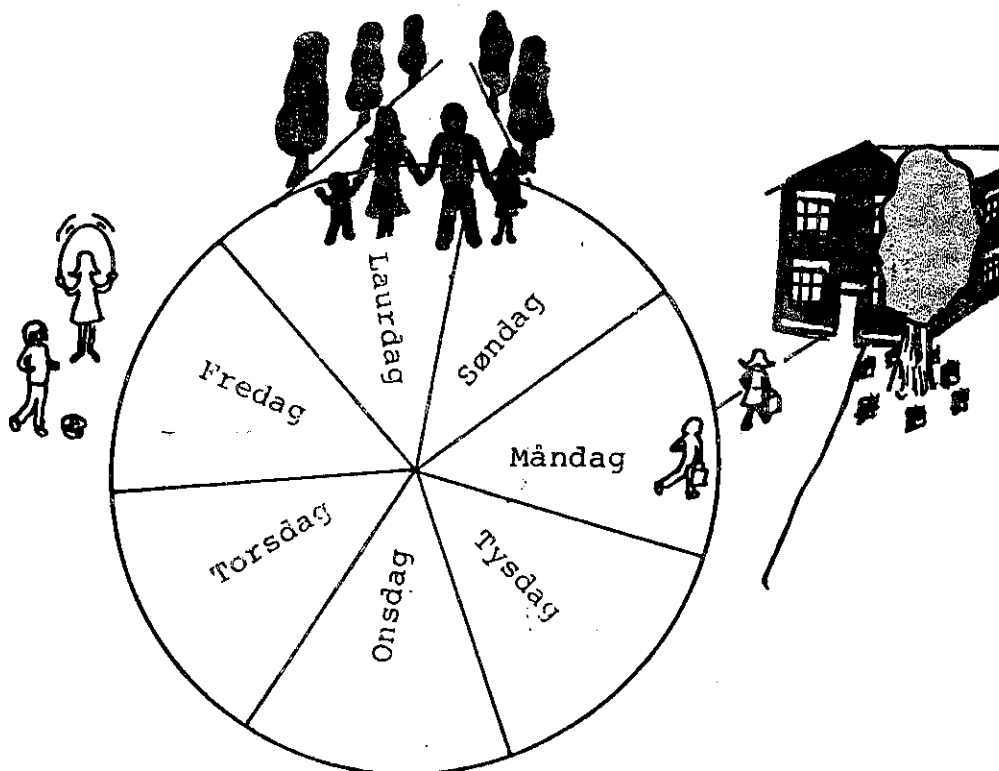
Når klokka er 20
er det KVELD.



Når klokka er 24
er det NATT.



EI VEKE.



Ei veke = _____ døgn.

Dei 7 døgna er :

måndag

 ty

 o

Set eit raudt X ved dei dagane du er på skulen.

Set eit grønt X ved dei dagane du har fri.

EI VEKE.

Ei veke har 6
arbeidsdagar.
Dei vert kalla
kvardagar.

Dei 6 kvardagane er:

1 _____
2 _____
3 _____
4 _____
5 _____
6 _____

Den 7. dagen er ein kviledag

Kviledagen heiter : _____

Laurdag og søndag vert kalla helg , vekeslutt eller
week-end .

Nokre mennesker har fri kvar _____

Alle skuleborn har fri kvar _____

7 døgn = 1 veke

14 døgn = _____

21 døgn = _____

28 døgn = _____

EIN MÅNAD .

Sjå på kalenderen :

Kva årstal har vi ? _____

Kor mange døgn har kvar månad ?

1. Januar har _____ døgn
2. Februar har _____ døgn
3. _____ døgn
4. _____ døgn
5. _____ døgn
6. _____ døgn
7. _____ døgn
8. _____ døgn
9. _____ døgn
10. _____ døgn
11. _____ døgn
12. _____ døgn

Eit år har i alt _____ døgn

Ein månad er ca: _____ døgn.

Ein månad er ca: _____ døgn.

Nokre år er skotår.

Eit skotår har 1 døgn meir , = _____ døgn.

Når det er skotår har februar 29 døgn.

EIT ÅR.

Sjå på kalenderen:

Kor mange månader har eit år ? _____ månader.

Kor mange veker har eit år ? _____ veker.

Kor mange døgn har eit år ? _____ døgn.

Kor mange døgn har eit skotår ? _____ døgn.

Året deler vi i 4 årstider.

Dei 4 årstidene heiter: Vår.

Sommar.

Haust.

Vinter.

Del eit år (12 månader) opp i 4 like store delar.

Kvar del vert _____ månader.


Vi seier at kvar årstid varer 3 månader.

I kva månad er det full vår ? _____

I kva månad er det full sommar ? _____

I kva månad er det full haust ? _____

I kva månad er det full vinter ? _____



Det er vår i _____ måneder.

Det er sommar i _____ måneder.

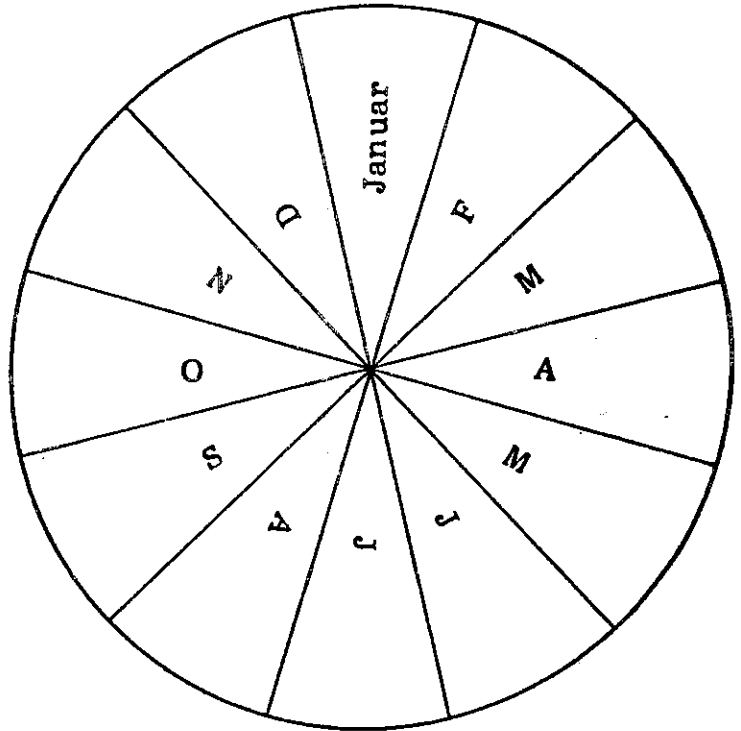
Det er haust i _____ måneder.

Det er vinter i _____ måneder.

Kva årstid er det:

- når du har fødselsdag? _____
- når det er jul ? _____
- når du har påskeferie ? _____
- når du har haustferie ? _____
- når det er jonsok ? _____
- når det er 17. mai ? _____

EIT -ÅR.



Skriv namnet på månedene.

Farg årstidene

Vår = grøn

Sommar = blå

Haust = raud

Vinter = kvit

Det er vår i : _____ , _____ og _____

Det er sommar i : _____ , _____ og _____

Det er haust i : _____ , _____ og _____


Det er vinter i : _____ , _____ og _____

EIT ÁR .

Teikn ein strek frá mánað til árstíð.



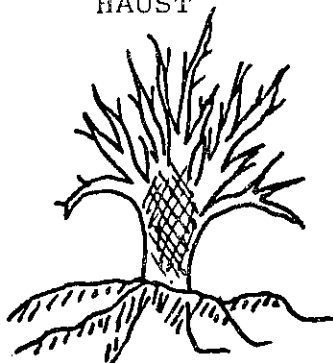
VÁR



SOMMAR



HAUST



VINTER

Mai

Februar

November

Januar

Juni

August

September

Mars

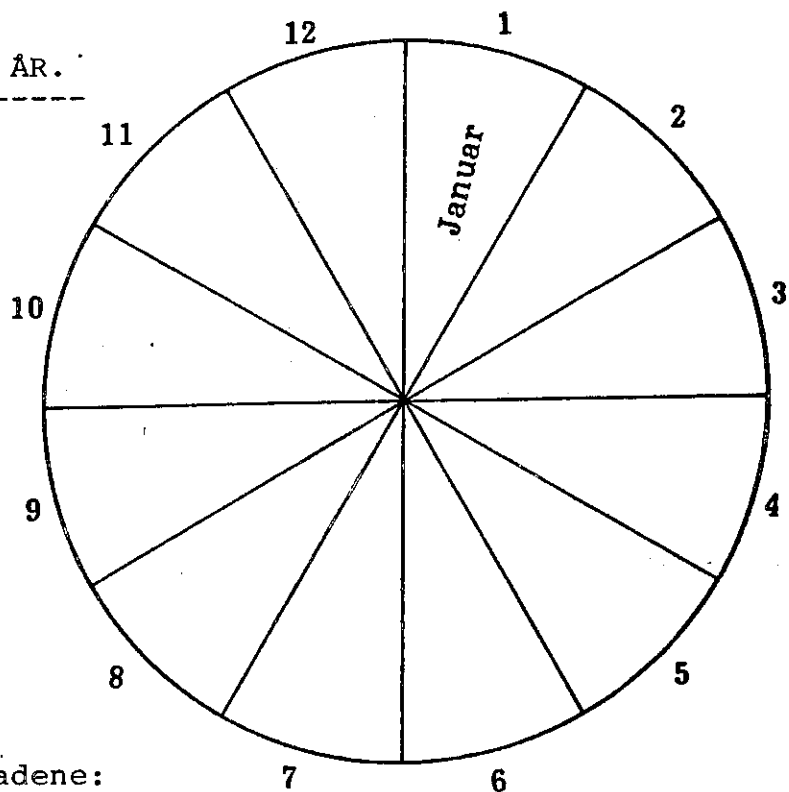
Desember

Oktober

Juli

April

EIT ÅR.



Skriv namnet på månadene:

Sjå på kalenderen:

4.1 er ein _____ dag

17.2 er ein _____ dag

16.4 er ein _____ dag

3.6 er ein _____ dag

26.10 er ein _____ dag

12.11 er ein _____ dag

24.12 er ein _____ dag

Finn sjølv:

----- er ein _____ dag

Når har du fødselsdag ? _____

Kva dag er det i år ? _____

KALENDEREN.

Sjå på kalenderen:

Kva årstal er det ? _____

Er det skotår ? _____

Kor mange døgn har året ? _____

Kor mange veker har året ? _____

Kor mange månader har året ? _____

No skal du finne nokre datoar og årstider.

	dato	årstid	
Nyttårsdag	<u>1.1</u>	<u>vinter</u>	
Fastelaven	_____	_____	1 år
Palmesøndag	_____	_____	1 år
Langfredag	_____	_____	1 år
Grunnlovsdag	_____	_____	
Jonsok	_____	_____	
Olsok	_____	_____	
Fødselsdagen din	_____	_____	
Skulen sluttar	_____	_____	1 år
Skulen byrja	_____	_____	1 år
F N - dag	_____	_____	
1. søndag i advent	_____	_____	1 år
Julafta	_____	_____	
Nyttårsafta	_____	_____	